

<範圍： >

【劃卡代號：53】

班級：

座號：

姓名：


單選題(1~32 題, 每題 3 分, 共 96 分; 33 題 4 分)

- 社會變遷是人類社會因應內在或外在刺激，而不斷改變與發展的過程。下列哪一種的改變是屬於社會變遷中最明顯的現象
(A)遙控掃地機的誕生
(B)《勞動基準法》的修正
(C)限塑政策的推行
(D)生機健康飲食的觀念逐漸受重視
- 下圖為公民老師派給同學的學習單，請問其正確答案應為下列何者？

題目 人類因重視地球暖化的現象，而發明低碳、環保電動機車等節能產品

1. 這是基於 甲 因素的社會變遷

2. 這是屬於 乙 現象的社會變遷



- 下列何者屬於「制度層次」的社會變遷？
(A)交通運輸工具的改進 (B)建築材料技術的改良
(C)環境保育觀念的改良 (D)性別平等法規的制定

英國成立數位市場部門

英國宣布將成立一個新的監管單位「數位市場部門」，以規範臉書和谷歌等網路巨擘，提高他們在利用使用者個人資料，以及個人廣告方面的透明度。由於現有的法規已經不足以規範現有的網路平臺，這個由政府部門成立的新監管單位，宗旨就是為了確保消費者和小型企業不會處於劣勢。英國認同網路平臺對商業和社會帶來很大的好處，但權力過於集中在少數科技公司，不利產業的成長與創新，也對大眾帶來不利的影響。

- 若從社會變遷的面相判斷，上文中英國採取的做法最適合以下何種說明？
(A)器物改變帶動理念變遷
(B)制度改變帶動器物變遷
(C)器物改變帶動制度變遷
(D)理念改變帶動制度變遷
- 下列何者最適合說明文中畫線的內容？
(A)國際組織介入改變法規
(B)弱勢團體爭取社會正義
(C)民間團體投入社會運動
(D)政府施政推動公平正義

- 新聞報導：「人稱『刈包吉』的廖榮吉，1987 年開始設宴款待街友，舉辦過 24 次的愛心宴；開銷約有 2/3 靠善心人士樂捐、1/3 是廖榮吉自費。近年來捐款逐漸減少，廖榮吉壓力愈來愈大，加上高齡體力越來越差，他決定第 25 次的愛心宴將是『完結篇』，不再舉辦。」根據新聞內容判斷，下列何者敘述正確？
(A)街友所能享有的法律上權益有所限制
(B)文中的善心人士樂捐皆來自志願團體
(C)參加愛心宴的街友會受到不公平對待
(D)文中宴會的舉辦有助於落實社會正義

- 「大埔事件」是一起發生在苗栗縣竹南鎮大埔里的抗爭事件。當時的居民反對縣長為擴建新竹科學工業園區的用地，而強制徵收與拆遷房屋。經媒體報導與批判後，引起後續一連串民間團體與全國性的聲援。由上述內容判斷，下列敘述何者正確？
(A)該事件呈現出貧富差距擴大的問題
(B)政府強制徵收的行為是基於促進公平正義
(C)此事件透過民間團體的投入可捍衛弱勢權益
(D)政府徵收與拆遷政策，屬於倫理道德的社會規範

- 2020 年因為疫情的關係，全球面臨經濟不景氣的情況，然而各國政府面對此衝擊的做法不同，如附表。請問：下列推論何者正確？

國家類型	多數國家做法
較富裕國家	發放福利和救助金，維持受疫情影響民眾的基本生活和醫療，並減少對貧窮國家的援助。如巴西提供疫情難民 3 個月、每月 110 美金的資金。
不富裕國家	將大部分資金救援大企業，而非流向一般人民。集中火力扶植該國企業度過疫情難關。如南非未將錢花在社福措施，而是用來救援國航。

- 巴西的做法較不利於縮短貧富之間的差距
(B) 南非的做法可能會產生利益分配的不平等
(C) 富裕的國家一定會減少對貧富國家的援助
(D) 南非做法比巴西的更能縮短貧富差距的情況
- 電動輔助自行車、電動自行車愈來愈普及，政府於是修訂《道路交通管理處罰條例》，將其納入慢車種類中，加以規範。以下何者最能說明上述現象？
(A)制度變革影響價值觀念
(B)器物演進影響制度變革
(C)價值觀念影響器物改變
(D)制度變革影響器物變遷

10. 隨著科技發展，現在許多班級都會利用即時通訊平臺，如 line 創建群組，可隨時傳遞訊息或與親師溝通。上述即時通訊平臺的發展，最能說明何種層次的社會變遷？
 (A) 器物 (B) 制度 (C) 理念 (D) 風俗習慣
11. 高雄市環保局結合社福團體推動「以功代金」政策，



邀請市民中元普渡及年節祭拜祖先之際，將購買紙錢的金額捐助給弱勢團體，同時也減少燃燒紙錢造成的空氣。請問：上述做法屬於何種社會變遷？

- (A) 器物帶動制度的變遷
 (B) 器物帶動理念的變遷
 (C) 制度帶動理念的變遷
 (D) 理念帶動制度的變遷
12. 本年度參與的團體之一——「安德烈食物銀行」，其核心工作主要定期提供低收入戶及中低收入戶「膳糧食物包」，以滿足其基本生活需求，請問：上述服務屬於社會福利的哪一範疇？
 (A) 社會救助 (B) 社會保險 (C) 福利服務 (D) 生活津貼

生育相關福利有哪些？

為了催生、搶救少子化問題，政府從中央到地方，提供各種相關福利，以下是簡單整理

生育獎勵金	每一胎新生兒發放生育獎勵金，金額各縣市不同
生育給付	即就業保險給付項目，如有投保勞工保險、農民保險或國民年金等，依照各個保險規定發放給付
育兒津貼	送托至與政府簽約的「準公共化保母或私立托嬰中心」，一般家庭每月 6,000 元；送公托補助 3,000 元；未請領育嬰留職停薪津貼、未接受公共獲準公共化托育補助者，中央發放每名幼兒每月 2,500 元的育兒津貼；2~5 歲公幼免學費等

13. 上文中的生育獎勵金(生育津貼)及育兒津貼屬於「社會津貼」的社會福利項目，請判斷其原因為何？
 (A) 因為民眾有繳納保費後才能申請
 (B) 因為符合特定身分的民眾才能申請
 (C) 因為遭遇急難變故的民眾才能申請
 (D) 因為具中、低收入戶資格者才能申請

14. 從社會福利的角度來看，上述「生育給付」措施之目的最可能是下列何者？
 (A) 彌補社會保險的不足 (B) 滿足基本生活需求
 (C) 轉移民眾生活的風險 (D) 滿足不同群體的需求

交通部補助新北市政府 2 年 5000 萬元的「自動巴士轉運計畫」於 2020 年 3 月到淡水新市鎮上路測試一個月，新北市長在接受記者訪問時表示，若測試安全無虞後，就會開放給民眾試乘，這將成為全國第一個無人駕駛電動巴士導入運輸系統的案例。無人駕駛電動巴士總容量 22 人，有 13 個座位，初期行駛淡海輕軌崁頂站至美麗新廣場，單程大約 600 公尺。這不但是綠能運輸的一大推動，更能改善偏鄉地區的交通運輸。

15. 交通部補助新北市政府 2 年 5000 萬的「無人駕駛電動巴士」，這是屬於下列哪一種層次的社會變遷？
 (A) 器物層次 (B) 制度層次 (C) 理念層次 (D) 文化層次
16. 無人駕駛電動巴士的上路使國人能夠了解綠能運輸的重要性，這是屬於下列何種方式的社會變遷？
 (A) 器物層次影響理念層次 (B) 理念層次影響器物層次
 (C) 理念層次影響制度層次 (D) 器物層次影響制度層次
17. 「自動巴士轉運計畫」無人駕駛電動巴士的上路能夠改善偏鄉地區的交通運輸，上述做法最有助於解決社會變遷過程中所產生的哪一項問題？
 (A) 貧富差距的懸殊
 (B) 城鄉差距的擴大
 (C) 都會區房屋價格昂貴
 (D) 職場上對性別在待遇的不平等

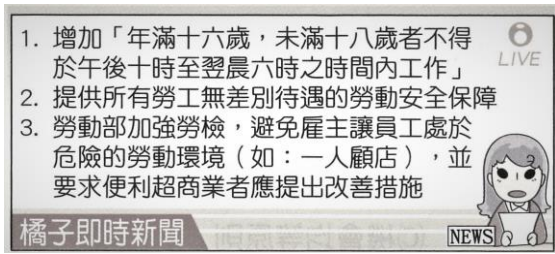
18. 2020 年新竹火車站發出的附圖告示，下列敘述何者正確？



因電梯老舊正進行更新維修，維修期間提供「陪你爬樓梯」服務：
 即日起在火車通行時間（上午5點到晚上10點），身障朋友都可洽任何一名站務人員，就會有專人提供爬梯機的服務。

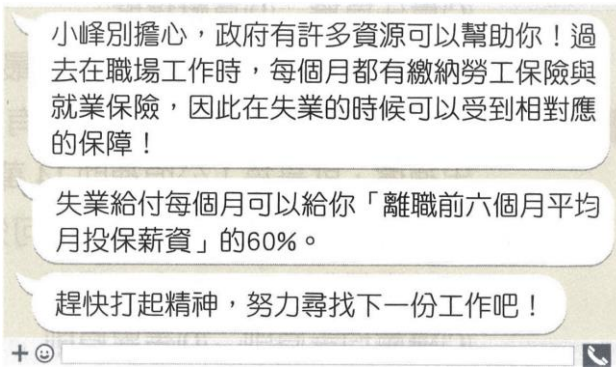
- (A) 只要是乘客都可要求使用爬梯機服務
 (B) 陪你爬樓梯屬於醫療照護的福利政策
 (C) 此措施是因差異需求而做的福利服務
 (D) 和「長期照顧」服務皆是對身障者的協助

19. 附圖是臺灣少年權益與福利促進聯盟對政府提出呼籲，希望相關單位重視青少年打工族群的權益。根據圖中的內容，可知該聯盟的訴求，是希望政府加強哪一項措施？
 (A) 災害補助 (B) 福利服務 (C) 就業安全 (D) 急難救助



20. 「國內實施健保門急診部分負擔費用新制，民眾如果經轉診至醫學中心就醫，門診部分負擔由現行的 210 元，調降至 170 元，但如未經轉診而直接去醫學中心就醫，門診部分負擔由 360 元調升至 420 元。對於民眾經轉診就醫，在 1 個月內的 4 次回診，均視為轉診，可享部分負擔費用優惠，藉此鼓勵民眾先至基層醫院就診。」根據上述新聞報導內容，下列何者最能說明該項措施的目的？
 (A) 彌補社會保險的不足
 (B) 避免醫療資源的浪費
 (C) 節省社會福利的支出
 (D) 維持人民基本的生活

21. 失業的小峰覺得一籌莫展，好在律師好友小童傳來的相關資訊安撫了小峰，如附圖。請問：小童所說的失業給付和下列哪一社會福利的性質相同？
 (A) 社會住宅 (B) 生育津貼
 (C) 國民年金 (D) 低收入戶補助



22. 下圖是民眾撥打 113 專線求助的畫面



- 下列針對 113 專線設置的敘述，何者正確？
 (A) 可以協助特定的群體轉移生活風險
 (B) 可以滿足弱勢民眾的基本生活需求
 (C) 屬於維護人性尊嚴的社會救助政策
 (D) 屬於促進身心健全發展的福利服務

23. 下列關於「社會救助」與「社會保險」的比較，何者最為正確？

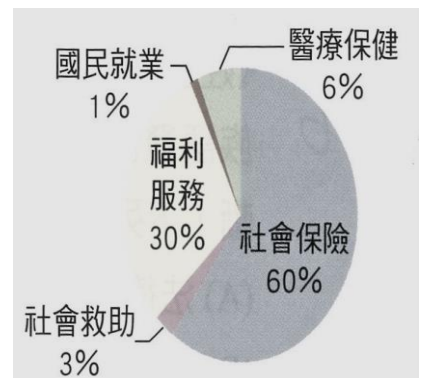
比較項目	社會救助	社會保險
(A) 適用對象	中、低收入的民眾	有工作的勞動者
(B) 主要經費來源	民眾的納稅	被保險人的保費
(C) 承辦機構	政府機關	民間企業
(D) 政策目的	滿足不同群體的需求	轉移人民的生活風險

24. 右圖是政府限塑政策的文宣。政府致力推動購物用塑膠袋減量工作(限塑政策)，108 年擴大限用措施範圍，民眾也因此漸漸接受減塑愛地球的觀念。若以社會變遷的面向來看，上述社會變遷的過程，與下列何者最為相近？



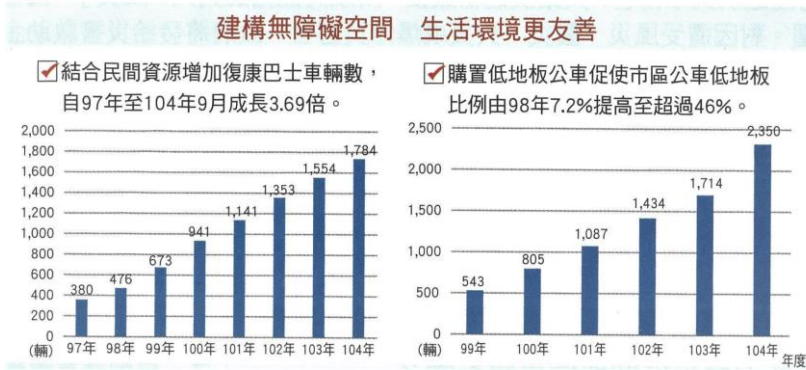
- (A) 室內禁止吸菸的法規出現，廠商研發並推出電子香菸產品
 (B) 政府制定《家庭暴力防治法》，打破「法不入家門」的迷思
 (C) 愛迪生為實現理想，發明留聲機，進而增進人類生活便利
 (D) 大眾運輸工具愈來愈便捷，逐漸改變民眾自行開車的習慣

25. 右圖是我國某年度中央政府總預算中，關於社會福利各項計畫的支出比例。根據圖中資料判斷，下列何者最可能是圖中比例最高項目的政策目的？



- (A) 彌補社會保險不足
 (B) 滿足基本生活需求
 (C) 轉移個人生活風險
 (D) 滿足不同群體需求

26. 新北市約有 4 萬 5 千名家庭照顧者，每天照顧家人時間超過 13 小時，平均要照顧 10 年，新北市目前已設立了 12 家「有 FU 長照站」，提供被照顧者復健、復能與各種社交活動，也讓照顧者有休憩、喘息及學習照顧技巧的地方。下列何者最適合用來說明政府的作為？
- (A) 提供社會救助滿足基本生活需求
(B) 透過福利服務滿足不同群體需求
(C) 藉由社會津貼健全經濟安全保障
(D) 推動社會保險轉移民眾生活風險
27. 1995 年起，政府將公保、農保等舊有保險體系整合納入，推出全民健康保險，並涵蓋了 99% 的民眾保障。下列關於全民健康保險的敘述，何者正確？
- (A) 目的是保障年長者基本生活需求
(B) 民眾繳納保費才能申請保險給付
(C) 屬於健康與醫療照護的政策項目
(D) 低所得家庭民眾才具有投保資格
28. 下列是政府實施某項措施的成果報告，依內容判斷，此措施屬於下列哪項社會福利內容？



- (A) 社會救助 (B) 社會保險
(C) 福利服務 (D) 健康與醫療照護
29. 印度有 1 億多人生活在貧窮線下，但同時印度也是世界收入最高的國家第 7 名，擁有亞洲最多位億萬富翁，通貨膨脹讓物價不斷上漲，窮人愈來愈窮，富人愈來愈富。這樣的情況顯示該國存在哪方面的不公平？
- (A) 性別方面 (B) 族群方面
(C) 資源分配方面 (D) 身心障礙者方面

沈芯菱看見爺爺、鄰居種植的文旦，因柚子盛產面臨滯銷困境，不捨老農們寢食難安，於是推動文旦網路交易平臺，後來將此平臺擴大為農產品交易平臺，希望幫助更多老農生計，偏鄉送愛，再把免費線上教學課程延伸到高中，想拍攝更多臺灣草根人物，讓他們的聲音被聽見。

30. 沈芯菱透過建立網路平臺來助農扶弱。其運用的方式，若從社會變遷三層次來看，與下列何者屬於相同層次？
- (A) 學者呼籲尊重多元性別差異，不因性別、性別特質而有差別待遇
(B) 政府訂定身心障礙者專用停車位設置辦法，以維護其權益
(C) 地方政府為照顧低所得家庭，發放低收入戶、中低收入戶生活補助
(D) 業者創立「LIS 線上教學平臺」，透過線上教育協助學習落後的孩子
31. 沈芯菱成立教學網站義助弱勢孩子、推動實體免費課輔班、幫新住民婦女建置學習平臺、記錄草根臺灣臉譜，這些行動有助於改善社會變遷所帶來的何項衝擊？
- (A) 弱勢權益的忽視 (B) 貧富差距擴大
(C) 家庭教育不足 (D) 生活品質的下降
32. 由上述內容可知，在共構福利社會中是由何種面向來促進社會變遷中的公平正義？
- (A) 個人的努力 (B) 政府的施政
(C) 民間團體的投入 (D) 國家組織的協助
34. 下列為某社團的四位成員對於我國社會福利的說法。依據內容判斷，下列何者正確？
- (A) 甲 (B) 乙 (C) 丙 (D) 丁



◇ 少女慈善家沈芯菱 ◇

被《讀者文摘》亞洲版譽為「少女慈善家」的沈芯菱，出身雲林縣農村貧困攤販，半工半讀完成學業。自 11 歲起投身公益，至今架設網站幫助阿公阿嬤銷售農產，進而幫助家鄉百位老農民。此外，還成立教學網站義助弱勢孩子，推動實體免費課輔班；創辦青少年創作展；為「一元柳丁」發聲請命；幫新住民婦女建置學習平臺；記錄草根臉譜等，18 年獨力支出 9 百多萬元行善，已幫助 5 百萬名弱勢兒童，從未接受捐款。